



01




KHOI
ĐÔNG





TRUYỀN ĐIỆN





1 bạn nêu luật chơi: Tôi là nguồn điện, tôi sẽ nêu một phép trừ có nhớ trong phạm vi 20, tôi truyền điện cho bạn A, trong vòng 5 giây bạn phải nêu được kết quả, sau đó bạn lại nghĩ ra một phép trừ tương tự và mời bạn B. Bạn nhận được điện không nói đúng kết quả sẽ bị điện giật và thua cuộc.




BÀI 12

BẢNG TRỪ

[QUA 10]



YÊU CẦU CẦN ĐẠT



- Biết bảng trừ (qua 10) trong phạm vi 20. Biết cách tìm kết quả phép trừ dựa vào bảng trừ (qua 10) trong phạm vi 20.
- Thực hiện được các phép tính 11, 12, 13, ..., 18 trừ đi một số.


02



Khám
phá




Mình và
Rô- bốt
cùng hoàn
thành các
phép trừ
sau nhé




		$11 - 4 = 7$
		$13 - 5 = ?$
		$12 - 3 = ?$
		$14 - 8 = ?$







Khám phá

	$11 - 4 = 7$






Khám phá








		$11 - 4 = 7$
		$13 - 5 = ?$
		$12 - 3 = ?$
		$14 - 8 = ?$





Khám phá




	$11 - 4 = 7$
	$13 - 5 = 8$
	$12 - 3 = 9$
	$14 - 8 = 6$





À, đó là các phép trừ qua 10.
Chúng ta hoàn thành luôn
bảng trừ (qua 10) nào!



$11 - 2 = 9$								
$11 - 3 = 8$	$12 - 3 = 9$							
$11 - 4 = 7$	$12 - 4 = 8$	$13 - 4 = 9$						
$11 - 5 = 6$	$12 - 5 = 7$	$13 - 5 = 8$	$14 - 5 = 9$					
$11 - 6 = 5$	$12 - 6 = 6$	$13 - 6 = 7$	$14 - 6 = 8$	$15 - 6 = 9$				
$11 - 7 = 4$	$12 - 7 = 5$	$13 - 7 = 6$	$14 - 7 = 7$	$15 - 7 = 8$	$16 - 7 = 9$			
$11 - 8 = 3$	$12 - 8 = 4$	$13 - 8 = 5$	$14 - 8 = 6$	$15 - 8 = 7$	$16 - 8 = 8$	$17 - 8 = 9$		
$11 - 9 = 2$	$12 - 9 = 3$	$13 - 9 = 4$	$14 - 9 = 5$	$15 - 9 = 6$	$16 - 9 = 7$	$17 - 9 = 8$	$18 - 9 = 9$	



Khám phá

$11 - 2 = 9$

$11 - 3 = 8$

$12 - 3 = 9$

$11 - 4 = \text{🍏}$

$12 - 4 = \text{🍏}$

$13 - 4 = 9$

$11 - 5 = 6$

$12 - 5 = 7$

$13 - 5 = 8$

$14 - 5 = 9$

$11 - 6 = \text{🍏}$

$12 - 6 = 6$

$13 - 6 = \text{🍏}$

$14 - 6 = 8$

$15 - 6 = 9$

$11 - 7 = 4$

$12 - 7 = \text{🍏}$

$13 - 7 = 6$

$14 - 7 = \text{🍏}$

$15 - 7 = \text{🍏}$

$16 - 7 = 9$

$11 - 8 = \text{🍏}$

$12 - 8 = 4$

$13 - 8 = \text{🍏}$

$14 - 8 = 6$

$15 - 8 = 7$

$16 - 8 = 8$

$17 - 8 = \text{🍏}$

$11 - 9 = 2$

$12 - 9 = \text{🍏}$

$13 - 9 = 4$

$14 - 9 = \text{🍏}$

$15 - 9 = \text{🍏}$

$16 - 9 = \text{🍏}$

$17 - 9 = 8$

$18 - 9 = \text{🍏}$





03



Hoạt
động





hoạt động

1 Tính nhẩm

$11 - 6 = 5$

$13 - 8 = 5$


$16 - 7 = 9$

$14 - 7 = 7$


$15 - 6 = 9$

$17 - 9 = 8$

2 Bạn nào cầm đèn ông sao ghi phép tính có kết quả bé nhất?



SỐ?





vân
dung



CHIẾC NÓN KÌ DIỆU



Câu 1



$$11 - 4 = ?$$
$$11 - 4 = 7$$





Câu 2

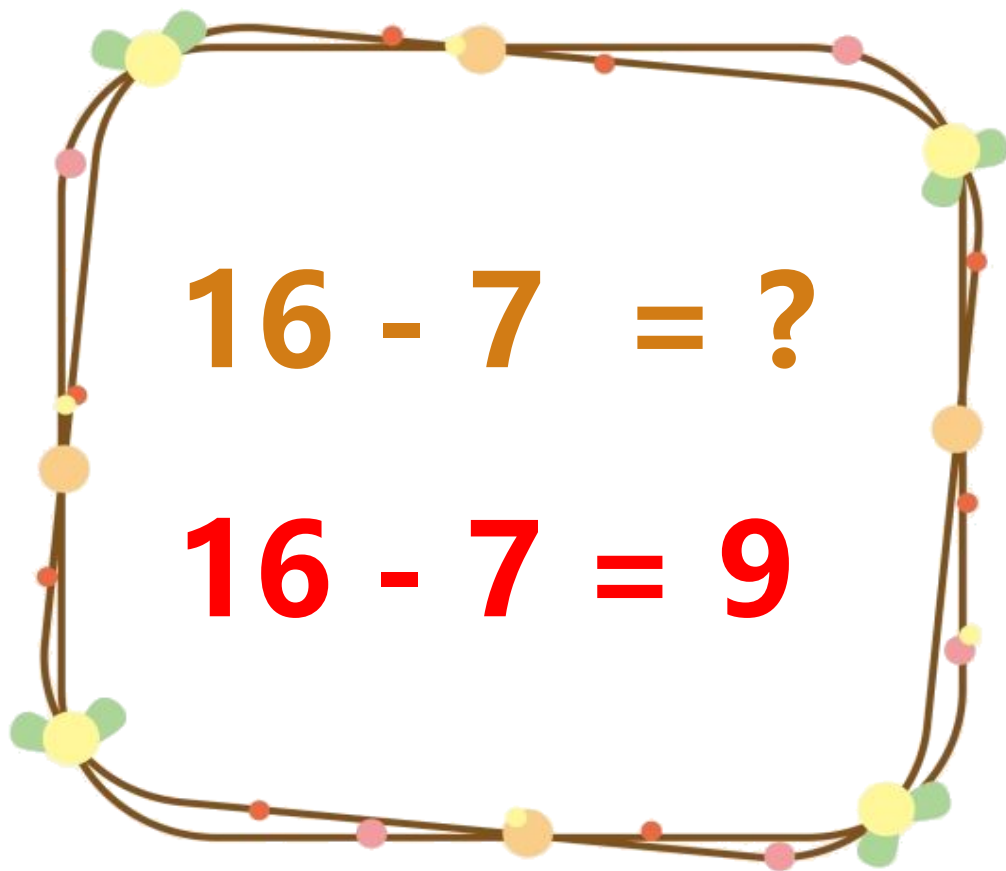
$$15 - 9 = ?$$
$$15 - 9 = 6$$



$$\begin{array}{r} 18 \\ 18 \end{array} - \begin{array}{r} 9 \\ 9 \end{array} = \begin{array}{r} ? \\ 9 \end{array}$$

Câu 3




$$16 - 7 = ?$$
$$16 - 7 = 9$$



Câu 4

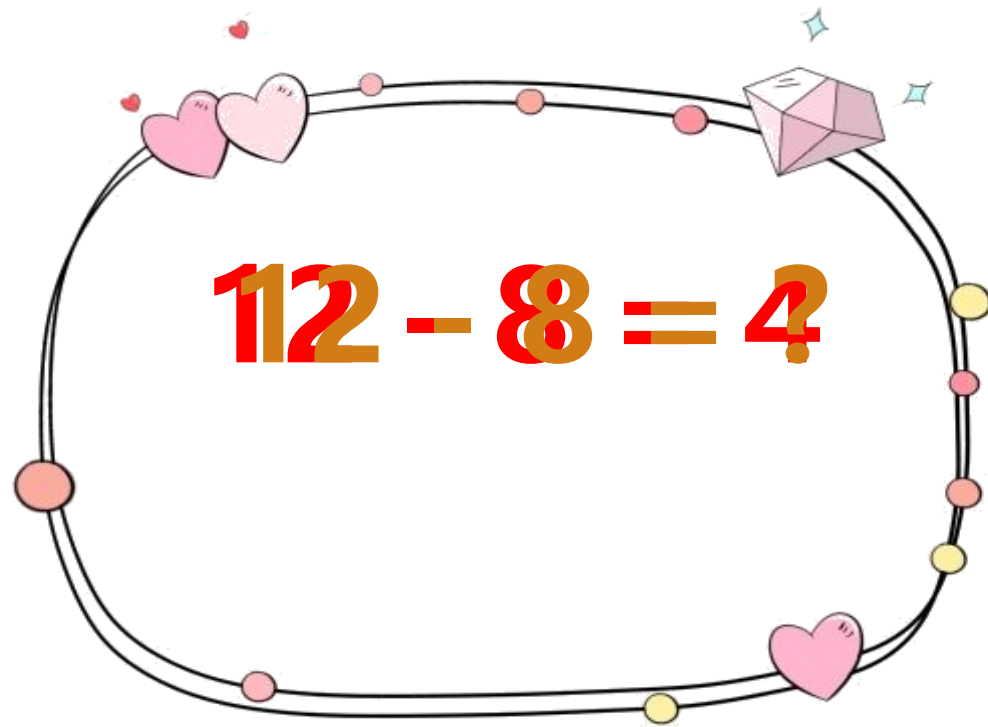


Câu 5



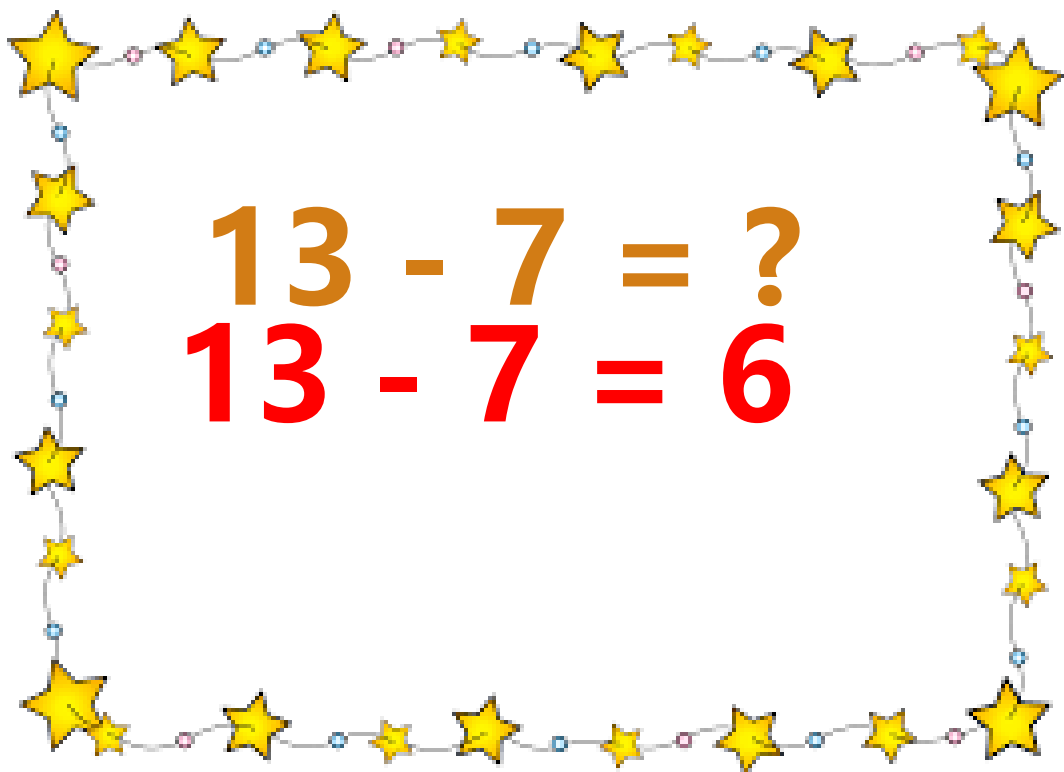
$$14 - 5 = 9?$$




$$112 - 8 = 4$$

Câu 6




$$13 - 7 = ?$$
$$13 - 7 = 6$$



Câu 8

$$15 - 6 = ?$$

$$15 - 6 = 9$$



Câu 9



$$17 - 9 = 8?$$
$$17 - 9 = 8$$



Câu 10

$$12 - 7 = ?$$

$$12 - 7 = 5$$



Câu 11


$$16 - 9 = ?$$

$$16 - 9 = 7$$



Câu 12



$$14 - 6 = 8 ?$$



**CHÚC CÁC
EM HỌC TỐT**

